

Probleme de fizică

Emil Petrescu Viorel Păun

October 5, 2004

Cuprins

1 OSCILAȚII

5

Capitolul 1

OSCILAȚII

PROBLEMA 1.1 Cunosând vitezele v_1 și v_2 ce corespund elongațiilor x_1 și x_2 ale unui oscilator armonic, să se determine amplitudinea și perioada oscilațiilor acestuia.

SOLUȚIE

Din expresiile elongației x_1 și a vitezei v_1

$$x_1 = A \sin(\omega t_1 + \varphi)$$

$$v_1 = \omega A \cos(\omega t_1 + \varphi)$$

rezultă

$$\frac{x_1}{A} = \sin(\omega t_1 + \varphi) \quad (1.1)$$

$$\frac{v_1}{\omega A} = \cos(\omega t_1 + \varphi) \quad (1.2)$$

Prin însumarea pătratelor expresiilor 1.1 și 1.2 rezultă:

$$\frac{x_1^2}{A^2} + \frac{v_1^2}{\omega^2 A^2} = 1 \quad (1.3)$$

În mod analog, se obține relația dintre elongația x_2 și viteza v_2 .

$$\frac{x_2^2}{A^2} + \frac{v_2^2}{\omega^2 A^2} = 1 \quad (1.4)$$

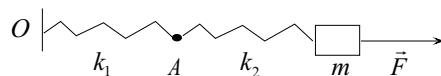


Figura 1.1: Resoarte legate în serie

Din sistemul format din relațiile 1.3 și 1.4 rezultă pulsația

$$\omega = \sqrt{\frac{v_2^2 - v_1^2}{x_1^2 - x_2^2}}$$

și amplitudinea

$$A = \sqrt{\frac{x_1^2 v_2^2 - x_2^2 v_1^2}{v_2^2 - v_1^2}}$$

Perioada oscilațiilor este

$$T = \frac{2\pi}{\omega} = 2\pi \sqrt{\frac{x_1^2 - x_2^2}{v_2^2 - v_1^2}}$$

PROBLEMA 1.2 O masă m este legată de un punct fix O prin intermediul a două resorturi cu constantele elastice k_1 și k_2 montate în serie, apoi în paralel. Să se determine în fiecare caz perioada micilor oscilații.

SOLUȚIE

a) Cazul resoartelor legate în serie (Fig. 1.1)

Se notează cu x_1 și x_2 deplasările punctului A și a masei m din pozițiile lor de echilibru. Aceasta înseamnă că deformarea celui de-al doilea resort este: $x_2 - x_1$.

Ecuția de mișcare a masei m este:

$$m \ddot{x}_2 = -k(x_2 - x_1) \quad (1.5)$$

Deoarece tensiunea în cele două resoarte este egală:

$$k_1 x_1 = k_2 (x_2 - x_1) \quad (1.6)$$

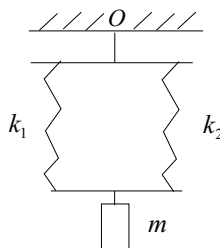


Figura 1.2: Resoarte legate în paralel

Se elimină x_1 din ecuațiile 1.5 și 1.6 și se obține

$$m \ddot{x}_2 + \frac{k_1 k_2}{k_1 + k_2} x_2 = 0$$

Aceasta este ecuația unui oscilator armonic cu pulsația

$$\omega = \sqrt{\frac{k_1 k_2}{m(k_1 + k_2)}}$$

În acest caz perioada micilor oscilații este:

$$T = \frac{2\pi}{\omega} \sqrt{\frac{m(k_1 + k_2)}{k_1 k_2}}$$

b) Cazul resoartelor legate în paralel (Fig. 1.2)

În acest caz deformarea celor două resoarte este egală. Ecuația de mișcare a corpului de masă m este

$$m \ddot{x} = -(k_1 + k_2) x$$

iar perioada de oscilație

$$T = 2\pi \sqrt{\frac{m}{k_1 + k_2}}$$

PROBLEMA 1.3 Un areometru (densimetru) de masă m cu diametrul tubului cilindric d efectuează mici oscilații verticale cu perioada T într-un lichid cu densitatea ρ . Să se determine densitatea lichidului.

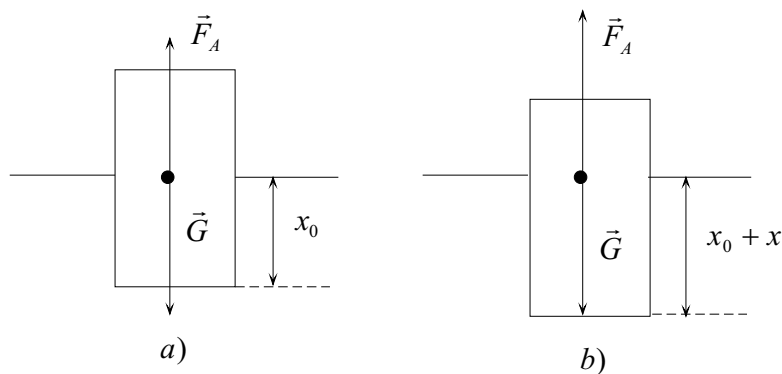


Figura 1.3: Areometru care oscilează în lichid

SOLUȚIE

Asupra areometrului acționează forța gravitațională și forța arhimedică.

În Fig. 1.3 sunt prezentate două situații:

a) areometrul este în echilibru

b) areometrul este scos puțin din poziția de echilibru.

Când areometrul este în poziția de echilibru, $F_A = G$, adică

$$\frac{\pi d^2}{4} x_0 \rho g = mg \quad (1.7)$$

unde m este masa areometrului.

Când areometrul este scos din poziția de echilibru și este introdus mai adânc în lichid forța arhimedică este mai mare decât forța gravitațională. Rezultanta celor două forțe este:

$$R = F_A - G = \frac{\pi d^2}{4} (x_0 + x) \rho g - mg \quad (1.8)$$

În expresia de mai sus s-a notat cu x deplasarea areometrului față de poziția de echilibru.

Ținând cont de relația 1.7, din 1.8 rezultă

$$R = \frac{\pi d^2}{4} \rho g x = kx \quad (1.9)$$

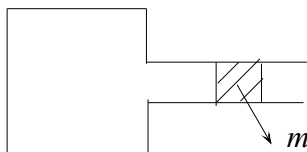


Figura 1.4: Piston care oscilează într-un tub

Deoarece rezultanta forțelor este proporțională cu deplasarea și este îndreptată în sensul revenirii areometrului în poziția de echilibru, rezultă

$$\omega = \frac{2\pi}{T} = \sqrt{\frac{\pi d^2}{4m} \rho g}$$

și

$$\rho = \frac{16\pi m}{gd^2 T^2}$$

PROBLEMA 1.4 În cazul recipientului reprezentat în Fig. 1.4 un piston de masă m poate culisa în interiorul tubului cilindric de secțiune S .

Când pistonul este în poziția de echilibru, volumul aerului din recipient este V , iar presiunea sa este egală cu presiunea atmosferică p_0 . Dacă pistonul este scos din poziția de echilibru el începe să oscileze. Dacă se consideră că interiorul cilindrului este izolat adiabatic, să se determine perioada micilor oscilații.

SOLUȚIE

Dacă pistonul este deplasat din poziția de echilibru cu distanța Δx volumul aerului din recipient crește cu:

$$\Delta V = \Delta x S$$

Din ecuația transformării adiabaticice

$$pV^\gamma = \text{const}$$

se obține

$$V^\gamma \Delta p + \gamma V^{\gamma-1} p \Delta V = 0$$

Rezultă astfel variația presiunii gazului din interiorul recipientului:

$$\Delta p = -\frac{\gamma p_0}{V} \Delta V$$

Se arată că dacă volumul de gaz din recipient crește presiunea acestuia scade astfel că forța rezultantă acționează din exterior înspre interior, iar dacă volumul de gaz se micșorează, rezultanta acționează spre exterior. Rezultă că forța are tendința de a readuce pistonul în poziția de echilibru. Expresia ei este:

$$F = \Delta p S = -\frac{\gamma p_0 S}{V} \Delta V = -\frac{\gamma p_0 S^2}{V} \Delta x$$

Această forță este de tip elastic astfel că pulsația este:

$$\omega = \sqrt{\frac{\gamma p_0 S^2}{Vm}}$$

iar perioada micilor oscilații

$$T = \frac{2\pi}{\omega} = 2\pi \sqrt{\frac{Vm}{\gamma p_0 S^2}}$$

PROBLEMA 1.5 Un punct material m se mișcă fără frecare în interiorul unei cicloide plasate în plan vertical. Ecuațiile parametrice ale cicloidei sunt:

$$x = R(\theta + \sin \theta) \quad (1.10)$$

$$z = R(1 - \cos \theta) \quad (1.11)$$

Să se calculeze abscisa curbilinie s în funcție de parametrul θ .

Să se arate că perioada oscilațiilor în jurul poziției de echilibru $x = 0$ și $z = 0$ este independentă de amplitudinea acestor oscilații.

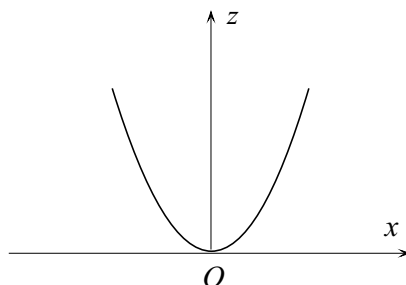


Figura 1.5: Forma unei cicloide în vecinătatea originii

SOLUȚIE

În Fig. 1.5 este arătată forma cicloidei. Punctul $x = 0$ și $z = 0$ corespunde valorii $\theta = 0$.

Deoarece:

$$ds = \sqrt{\left(\frac{dx}{d\theta}\right)^2 + \left(\frac{dz}{d\theta}\right)^2} d\theta \quad (1.12)$$

Introducând 1.10 și 1.11 în 1.12 rezultă:

$$ds = R\sqrt{(1 + \cos\theta)^2 + \sin^2\theta} d\theta = 2R \cos \frac{\theta}{2} d\theta$$

și integrând

$$s = 4R \sin \frac{\theta}{2} \quad (1.13)$$

Energia cinetică a punctului material este:

$$E_c = \frac{1}{2}m \left(\frac{ds}{dt}\right)^2 = \frac{1}{2}m \dot{s}^2 \quad (1.14)$$

Energia potențială este de natură gravitațională și este dată de expresia:

$$E_p = mgz = mgR(1 - \cos\theta) = 2mgR \sin^2 \frac{\theta}{2} = \frac{mgs^2}{8R} \quad (1.15)$$

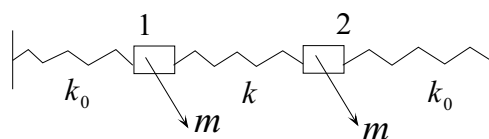


Figura 1.6: Sistem de trei resoarte și două corpuri care oscilează

Energia totală este:

$$E = E_c + E_p = \frac{1}{2}m \dot{s}^2 + \frac{mg}{8R}s^2 \quad (1.16)$$

Deoarece în sistem nu există forțe neconservative, energia mecanică se conservă. Derivând în raport cu timpul relația 1.16 se obține:

$$\ddot{s} + \frac{g}{4R}s = 0 \quad (1.17)$$

Relația 1.17 este ecuația unui oscilator armonic cu pulsația

$$\omega = \sqrt{\frac{g}{4R}}$$

Perioada micilor oscilațiilor este

$$T = 4\pi\sqrt{\frac{R}{g}}$$

PROBLEMA 1.6 Se consideră un sistem compus din două corpuri de mase m legate cu ajutorul a 3 resoarte cu constantele de elasticitate k_0 și k (vezi Fig. 1.6).

La momentul inițial se aplică un impuls corpului 1 astfel încât viteza acestuia să devină egală cu v_0 .

Să se determine ecuațiile de mișcare ale celor două corpuri.

SOLUȚIE

Pozițiile celor două corpuri vor fi date de deplasările acestora față de pozițiile de echilibru: x_1 pentru corpul 1 și x_2 pentru corpul 2.

Ecuțiile de mișcare ale celor două corpuri sunt:

$$m \ddot{x}_1 = -k_0 x_1 - k(x_1 - x_2) \quad (1.18)$$

$$m \ddot{x}_2 = -k_0 x_2 - k(x_2 - x_1) \quad (1.19)$$

Se adună cele două relații

$$m(\ddot{x}_1 + \ddot{x}_2) = -k_0(x_1 + x_2) \quad (1.20)$$

și se scad cele două relații

$$m(\ddot{x}_1 - \ddot{x}_2) = -(k_0 + 2k)(x_1 - x_2) \quad (1.21)$$

Atunci se pot face schimbările de variabile:

$$q_1 = x_1 + x_2 \quad (1.22)$$

$$q_2 = x_1 - x_2 \quad (1.23)$$

Ecuțiile de mișcare 1.20 și 1.21 devin:

$$\ddot{q}_1 + \frac{k_0}{m} q_1 = 0 \quad (1.24)$$

$$\ddot{q}_2 + \frac{k_0 + 2k}{m} q_2 = 0 \quad (1.25)$$

Soluțiile generale ale acestor ecuații sunt

$$q_1 = A_1 \sin(\omega_1 t + \varphi_1) \quad ; \quad \omega_1 = \sqrt{\frac{k_0}{m}} \quad (1.26)$$

$$q_2 = A_2 \sin(\omega_2 t + \varphi_2) \quad ; \quad \omega_2 = \sqrt{\frac{k_0 + 2k}{m}} \quad (1.27)$$

Condițiile inițiale la momentul t_0

$$\begin{aligned} x_1 &= 0 & ; & & \dot{x}_1 &= v_0 \\ x_2 &= 0 & ; & & \dot{x}_2 &= 0 \end{aligned}$$

devin pentru noile variabile:

$$\begin{aligned} q_1 &= 0 & ; & & \dot{q}_1 &= v_0 \\ q_2 &= 0 & ; & & \dot{q}_2 &= v_0 \end{aligned}$$

Utilizând condițiile inițiale rezultă

$$\begin{aligned} \varphi_1 &= \varphi_2 = 0 \\ A_1 &= \frac{v_0}{\omega_1} & A_2 &= \frac{v_0}{\omega_2} \end{aligned}$$

Astfel relațiile 1.26 și 1.27 devin:

$$q_1 = \frac{v_0}{\omega_1} \sin \omega_1 t \quad (1.28)$$

$$q_2 = \frac{v_0}{\omega_2} \sin \omega_2 t \quad (1.29)$$

Ținând cont de modul de definire a variabilelor q_1 și q_2 , rezultă:

$$x_1 = \frac{v_0}{2} \left[\frac{\sin \omega_1 t}{\omega_1} + \frac{\sin \omega_2 t}{\omega_2} \right]$$

$$x_2 = \frac{v_0}{2} \left[\frac{\sin \omega_1 t}{\omega_1} - \frac{\sin \omega_2 t}{\omega_2} \right]$$

PROBLEMA 1.7 Un punct material de masă m și sarcină q se află într-un plan xOy sub acțiunea unei forțe $\vec{F} = -k\vec{r}$, unde \vec{r} este raza vectorială a punctului material. Dacă în această regiune există un câmp magnetic \vec{B} perpendicular pe planul xOy să se calculeze pulsația mișcării oscilatoarii. Se va considera cazul unui câmp magnetic slab.

SOLUȚIE

În acest caz legea a doua a dinamicii este:

$$m \frac{d^2 \vec{r}}{dt^2} = -k\vec{r} + q\vec{v} \times \vec{B} \quad (1.30)$$

În planul xOy se obține:

$$\ddot{x} + \frac{k}{m}x = \frac{qB}{m} \dot{y} \quad (1.31)$$

$$\ddot{y} + \frac{k}{m}y = -\frac{qB}{m} \dot{x} \quad (1.32)$$

Se fac următoarele notații: $\omega_0^2 = k/m$ și $\omega_l = qB/2m$.

Se înmulțește ecuația 1.32 cu i și se adună cu 1.31. Rezultă:

$$(\ddot{x} + i\ddot{y}) + \omega_0^2(x + iy) = -i2\omega_l(\dot{x} + i\dot{y}) \quad (1.33)$$

Introducând o nouă variabilă:

$$u = x + iy$$

ecuația 1.33 devine

$$\ddot{u} + 2i\dot{u}\omega_l + \omega_0^2u = 0 \quad (1.34)$$

Relația 1.34 este o ecuație diferențială de ordinul al doilea cu coeficienți constanți a cărei ecuație caracteristică este:

$$r^2 + 2i\omega_l r + \omega_0^2 = 0$$

și are soluțiile

$$r_{1,2} = -i\omega_l \pm i\sqrt{\omega_l^2 + \omega_0^2}$$

În cazul câmpurilor magnetice slabe B este mic astfel încât se poate considera că

$$\omega_l \ll \omega_0$$

Atunci soluțiile ecuației caracteristice pot fi puse sub forma mai simplă:

$$r_{1,2} = -i(\omega_l \pm \omega_0)$$

iar soluția ecuației 1.34 este

$$u = e^{-i\omega_l} [Ae^{i\omega_0 t} + Ce^{-i\omega_0 t}]$$

A și C sunt constante care se determină din condițiile inițiale.

Se constată că în câmp magnetic pulsația ω_0 se schimbă cu o valoare ω_l astfel încât:

$$\omega = \omega_0 \pm \omega_l$$

PROBLEMA 1.8 Asupra unei sfere de rază r care se deplasează cu o viteză v într-un fluid cu coeficientul de vâscozitate η acționează o forță de frecare care are expresia:

$$\vec{f} = -6\pi\eta r \vec{v}$$

O sferă de masă m este suspendată de un resort cu constanta elastică k . Perioada de oscilație în aer, unde frecarea este neglijabilă, este T_0 . Când sfera este introdusă într-un fluid perioada oscilațiilor devine $T < T_0$. Să se determine coeficientul de vâscozitate în funcție de T și T_0 .

SOLUȚIE

Legea a doua a lui Newton pentru sfera care oscilează în fluid este

$$m \ddot{x} = -kx - 6\pi\eta r \dot{x} \quad (1.35)$$

Notând $\lambda = 3\pi\eta r$, ecuația 1.35 devine:

$$m \ddot{x} + 2\lambda \dot{x} + kx = 0 \quad (1.36)$$

Ecuația caracteristică a ecuației diferențiale 1.36 este

$$mr^2 + 2\lambda r + k = 0$$

și are soluțiile

$$r_{1,2} = -\frac{\lambda}{m} \pm i\sqrt{\frac{k}{m} - \frac{\lambda^2}{m^2}} \quad (1.37)$$

În cazul în care $k/m \leq \lambda^2/m^2$ mișcarea este aperiodică. Deoarece se consideră că sfera efectuează oscilații în fluid se va considera cazul $k/m > \lambda^2/m^2$. Soluția ecuației 1.36 este:

$$x = Ae^{-\lambda t/m} \exp i(\omega t + \phi) \quad (1.38)$$

unde:

$$\omega = \sqrt{\frac{k}{m} - \frac{\lambda^2}{m^2}} \quad (1.39)$$

În cazul în care sfera oscilează în aer, forța de frecare este neglijabilă. Atunci se poate considera $\lambda = 0$ iar pulsația oscilațiilor este

$$\omega_0 = \sqrt{\frac{k}{m}} \quad (1.40)$$

Din 1.39 și 1.40 rezultă:

$$\lambda = m\sqrt{\omega_0^2 - \omega^2}$$

Deoarece $\lambda = 3\pi\eta r$, $\omega_0 = 2\pi/T_0$ și $\omega = 2\pi/T$

$$\eta = \frac{2m}{3r} \sqrt{\frac{1}{T_0^2} - \frac{1}{T^2}}$$

PROBLEMA 1.9 O particulă este legată de un resort cu constanta elastică k . Ea poate executa oscilații fără amortizare. La momentul inițial particula se află în poziția de echilibru. Asupra particulei acționează o forță F un timp egal cu τ secunde. Să se determine amplitudinea oscilațiilor după ce forța încetează.

SOLUȚIE

Ecuația de mișcare în intervalul de timp $[0, \tau]$ este

$$m \ddot{x} = -kx + F \quad (1.41)$$

cu condițiile inițiale

$$\begin{aligned}x(0) &= 0 \\ \dot{x}(0) &= 0\end{aligned}\tag{1.42}$$

Soluția ecuației de mai sus este de forma

$$x = A \cos(\omega t + \varphi) + \frac{F}{k}\tag{1.43}$$

unde: $\omega = \sqrt{k/m}$

Pentru determinarea constantelor A și φ se ține cont de condițiile inițiale. Rezultă

$$x = (1 - \cos \omega t) \frac{F}{k}\tag{1.44}$$

Ecuația de mișcare pentru $t > \tau$ este

$$m \ddot{x} = -kx\tag{1.45}$$

Soluția ecuației 1.45 este:

$$x = A' \cos[\omega(t - \tau) + \alpha]\tag{1.46}$$

Pentru determinarea amplitudinii A' se pune condiția de continuitate pentru elongație și viteză în momentul $t = \tau$

Se obține

$$(1 - \cos \omega \tau) \frac{F}{k} = A' \cos \alpha$$

$$\frac{F}{k} \sin \omega \tau = -A' \sin \alpha$$

Cele două relații se ridică la pătrat și se adună. Rezultă

$$A' = \frac{2F}{m} \sin \frac{\omega \tau}{2}$$

PROBLEMA 1.10 O masă m legată de un resort oscilează, decrementul logaritmic al amortizării fiind δ . După timpul t_1 , energia oscilatorului scade de n ori. Să se determine constanta de elasticitate a resortului.

SOLUȚIE

Deoarece energia unui oscilator este proporțională cu pătratul amplitudinii oscilației raportul energiilor oscilatorului corespunzătoare momentelor t_0 și t_1 este:

$$\frac{E_1}{E_0} = \left(\frac{A_1}{A_0}\right)^2 = \frac{1}{n} \quad (1.47)$$

Notând cu γ coeficientul de amortizare:

$$\frac{A_1}{A_0} = \exp(-\gamma t_1) \quad (1.48)$$

Din relațiile 1.47 și 1.48 rezultă:

$$\ln \sqrt{n} = \gamma t_1$$

și decrementul logaritmic este:

$$\delta = \gamma T = \frac{\ln \sqrt{n}}{t_1} T \quad (1.49)$$

Cum

$$\begin{aligned} \omega^2 &= \omega_0^2 - \gamma^2 = \frac{k}{m} - \gamma^2 \\ k &= m(\omega^2 + \gamma^2) = m\left(\frac{4\pi^2}{T^2} + \gamma^2\right) \end{aligned} \quad (1.50)$$

Dacă se ține cont de relația 1.49 din relația 1.50 se obține constanta de elasticitate a resortului:

$$k = \left[\left(\frac{2\pi \ln \sqrt{n}}{\delta t_1} \right)^2 + \gamma^2 \right]$$

PROBLEMA 1.11 Un corp de masă m este suspendat de un resort cu constanta de elasticitate k . Forța de atracție este proporțională cu viteza. După s oscilații amplitudinea scade de n ori. Să se determine perioada de oscilație și decrementul logaritmic δ .

SOLUȚIE

Mișcarea corpului este o mișcare amortizată. Ea are loc după legea

$$x = A_0 e^{-\gamma t} \cos(\omega t + \phi) \quad (1.51)$$

unde:

$$\omega = \frac{2\pi}{T} = \sqrt{\omega_0^2 - \gamma^2} \quad (1.52)$$

$$\omega_0 = \sqrt{\frac{k}{m}} \quad (1.53)$$

Amplitudinea în timpul mișcării oscilatorii scade exponențial în timp:

$$A = A_0 e^{-\gamma t}$$

Conform datelor problemei:

$$\frac{A_0}{n} = A_0 e^{-\gamma s T} \quad (1.54)$$

Rezultă:

$$\ln n = \gamma s T \quad (1.55)$$

Din relațiile 1.52 și din 1.55 se obține:

$$\gamma = \frac{\omega_0 \ln n}{\sqrt{4\pi^2 s^2 + \ln^2 n}}$$

$$T = \frac{\ln n}{\gamma s} = \frac{\sqrt{4\pi^2 s^2 + \ln^2 n}}{s \omega_0}$$

Decrementul logaritmic este

$$\delta = \gamma T = \frac{\ln n}{s}$$

PROBLEMA 1.12 Un corp de masă $m=5$ kg este suspendat de un resort care oscilează. În absența forțelor de rezistență perioada de oscilație este $T_0 = 0,4\pi$ s. Atunci când există o forță de rezistență proporțională cu viteza, perioada de oscilație devine $T = 0,5\pi$ s. Să se determine ecuația de mișcare a corpului presupunând că în momentul inițial acesta se găsește la distanța $x_0 = 4$ cm față de poziția de echilibru și apoi este lăsat liber.

SOLUȚIE

Mișcarea corpului este o mișcare cvasiperiodică amortizată cu pulsația ω și perioada T date de relațiile:

$$\begin{aligned}\omega^2 &= \omega_0^2 - \gamma^2 \\ \frac{4\pi^2}{T^2} &= \frac{4\pi^2}{T_0^2} - \gamma^2\end{aligned}$$

Rezultă că:

$$\gamma = 2\pi \sqrt{\frac{T^2 - T_0^2}{T^2 T_0^2}} = \frac{2\pi}{T_0 T} \sqrt{T^2 - T_0^2} = 3 \text{ s}^{-1}$$

Deoarece ecuația de mișcare a corpului este de forma:

$$x = A_0 e^{-\gamma t} \sin(\omega t + \phi) \quad (1.56)$$

viteza sa este:

$$v = \frac{dx}{dt} = -A_0 \gamma e^{-\gamma t} \sin(\omega t + \phi) + \omega A_0 e^{-\gamma t} \cos(\omega t + \phi) \quad (1.57)$$

Aplicând condițiile inițiale

$$x(0) = x_0 \quad v(0) = 0$$

se obține:

$$0 = -A_0 \gamma \sin \phi + A_0 \omega \cos \phi \quad (1.58)$$

$$x_0 = A_0 \sin \phi \quad (1.59)$$

Din relațiile 1.58 și 1.59 rezultă $A_0 = 5 \text{ cm}$ și

$$\phi = \arcsin \frac{x_0}{A_0} = \arcsin \frac{4}{5}$$

Ecuația de mișcare este:

$$x = 5e^{-3t} \sin(4t + \arcsin 4/5) \text{ cm}$$

PROBLEMA 1.13 Să se scrie ecuația de mișcare a unui punct material de masă m care este supus acțiunii unei forțe elastice kx și unei forțe constante F_0 având aceeași direcție ca forța elastică. Se consideră că la momentul $t = 0$ în punctul $x = 0$ viteza este nulă.

SOLUȚIE

Legea a doua a mecanicii este:

$$m\ddot{x} + kx = F_0 \quad (1.60)$$

Soluția acestei ecuații diferențiale neomogene este suma dintre soluția generală a ecuației diferențiale omogene

$$x_1 = A \sin(\omega t + \phi_0) \quad \text{cu} \quad \omega = \sqrt{\frac{k}{m}} \quad (1.61)$$

și o soluție particulară a ecuației neomogene

$$x_2 = \frac{F_0}{k} \quad (1.62)$$

Atunci soluția ecuației 1.60 este:

$$x = x_1 + x_2 = \frac{F_0}{k} + A \sin(\omega t + \phi_0) \quad (1.63)$$

Viteza punctului material este

$$v = \frac{dx}{dt} = A\omega \cos(\omega t + \phi_0) \quad (1.64)$$

Din condițiile inițiale

$$x(0) = 0 \quad \text{și} \quad v(0) = 0$$

și din ecuațiile 1.63 și 1.64 se obține:

$$A = -\frac{F_0}{k} \quad \text{și} \quad \phi_0 = \frac{\pi}{2}$$

iar ecuația de mișcare este:

$$x = -\frac{F_0}{k} (1 - \cos \omega t)$$

PROBLEMA 1.14 Să se scrie ecuația de mișcare unidimensională a unui punct material de masă m care este supus acțiunii unei forțe elastice $-kx$ și unei forțe $F = at$ care are aceeași direcție ca și forța elastică. La momentul $t = 0$ în punctul $x = 0$ viteza este nulă.

SOLUȚIE

Legea a doua a mecanicii se scrie:

$$m\ddot{x} + kx = at \quad (1.65)$$

Soluția acestei ecuații diferențiale neomogene este suma dintre soluția generală a ecuației diferențiale omogene

$$x_1 = A \sin(\omega t + \varphi) \quad \text{cu} \quad \omega = \sqrt{\frac{k}{m}} \quad (1.66)$$

și o soluție particulară a ecuației neomogene

$$x_2 = \frac{at}{k} \quad (1.67)$$

Atunci soluția ecuației 1.65 este:

$$x = x_1 + x_2 = \frac{at}{k} + A \sin(\omega t + \varphi) \quad (1.68)$$

Viteza punctului material este

$$v = \frac{dx}{dt} = \frac{a}{k} + A\omega \cos(\omega t + \varphi) \quad (1.69)$$

Din condițiile inițiale

$$x(0) = 0 \quad \text{și} \quad v(0) = 0$$

și din ecuațiile 1.68 și 1.69 se obține:

$$A \sin \varphi = 0 \quad (1.70)$$

$$\frac{a}{k} + A\omega \cos \varphi = 0 \quad (1.71)$$

Din 1.70 și din 1.71 rezultă:

$$\varphi = 0 \quad A = -\frac{a}{k\omega}$$

Ecuția de mișcare 1.68 devine:

$$x = \frac{a}{k} \left(t - \frac{1}{\omega} \sin \omega t \right)$$

PROBLEMA 1.15 Să se scrie ecuația de mișcare unidimensională a unui punct material de masă m care este supus acțiunii unei forțe elastice $-kx$ și unei forțe $F = F_0 \exp(-\alpha t)$. La momentul $t = 0$ în punctul $x = 0$ viteza este nulă.

SOLUȚIE

Legea a doua a mecanicii se scrie:

$$m\ddot{x} + kx = F_0 \exp(-\alpha t) \quad (1.72)$$

Soluția acestei ecuații diferențiale neomogene este suma dintre soluția generală a ecuației diferențiale omogene

$$x_1 = A_1 \sin(\omega t + \varphi) \quad \text{cu} \quad \omega = \sqrt{\frac{k}{m}} \quad (1.73)$$

și o soluție particulară a ecuației neomogene de forma:

$$x_2 = A_2 \exp(-\alpha t) \quad (1.74)$$

Pentru a determina valoarea constantei A_2 introducem 1.74 în 1.72. Se obține:

$$m\alpha^2 A_2 \exp(-\alpha t) + kA_2 \exp(-\alpha t) = F_0 \exp(-\alpha t)$$

Rezultă:

$$A_2 = \frac{F_0}{m\alpha^2 + k} \quad (1.75)$$

Atunci soluția generală a ecuației 1.72 este:

$$x = x_1 + x_2 = \frac{F_0}{m\alpha^2 + k} \exp(-\alpha t) + A_1 \sin(\omega t + \varphi) \quad (1.76)$$

Viteza punctului material este

$$v = \frac{dx}{dt} = \frac{-\alpha F_0}{m\alpha^2 + k} \exp(-\alpha t) + A_1 \omega \cos(\omega t + \varphi) \quad (1.77)$$

Din condițiile inițiale

$$x(0) = 0 \quad \text{și} \quad v(0) = 0$$

și din ecuațiile 1.76 și 1.77 se obține:

$$\frac{F_0}{m\alpha^2 + k} + A_1 \sin \varphi = 0 \quad (1.78)$$

$$\frac{-\alpha F_0}{m\alpha^2 + k} + A_1 \omega \cos \varphi = 0 \quad (1.79)$$

Din 1.78 și din 1.79 se obține:

$$A_1 = \frac{F_0}{m\alpha^2 + k} \sqrt{1 + \frac{\alpha^2}{\omega^2}}$$

și, prin împărțirea acestora, unghiul φ :

$$\operatorname{tg} \varphi = -\frac{\omega}{\alpha}$$

PROBLEMA 1.16 O sursă aflată într-un mediu elastic unidimensional oscilează după legea

$$y = 0,5 \sin 100\pi t \quad \text{mm}$$

Lungimea de undă a undelor longitudinale emise este $\lambda = 20$ m.

a) După cât timp va începe să oscileze un punct aflat la distanța $x_1 = 8$ m față de sursă?

b) Ce defazaj există între oscilația punctului aflat la distanța x_1 de sursă și oscilația sursei?

c) La ce distanță se află două puncte ale căror oscilații sunt defazate cu $\pi/3$?

SOLUȚIE

a) Din ecuația de oscilație a sursei rezultă că $\omega = 100\pi$ astfel că:

$$T = \frac{2\pi}{100\pi} = 2 \times 10^{-2} \text{ s}$$

Deoarece lungimea de undă este $\lambda = vT$, viteza de propagare a undei este:

$$v = \frac{\lambda}{T} = 10^3 \text{ m/s}$$

Timpu după care punctul aflat la distanța x_1 începe să oscileze este:

$$t = \frac{x_1}{v} = \frac{8}{10^3} = 8 \times 10^{-3} \text{ s}$$

b) Ecuația undei este:

$$y_1 = 0,5 \sin 100\pi \left(t - \frac{x_1}{v} \right) \text{ mm}$$

Defazaajul dintre oscilația sursei și oscilația punctului considerat este:

$$\Delta\varphi = \varphi_s - \varphi_p = 100\pi t - 100\pi \left(t - \frac{x_1}{v} \right) = 100\pi \frac{x_1}{v} = \frac{8\pi}{10} \text{ rad}$$

c) Se consideră defazaajul dintre două puncte aflate la distanța Δx unul de altul

$$\Delta\varphi = 100\pi \left(t - \frac{x_2}{v} \right) - 100\pi \left(t - \frac{x_1}{v} \right) = \frac{100\pi (x_1 - x_2)}{v}$$

Atunci:

$$\Delta x = (x_1 - x_2) = \frac{v\Delta\varphi}{100\pi} = 3,3 \text{ m}$$

PROBLEMA 1.17 Un avion cu reacție zboară cu viteza constantă $v = 1000 \text{ m/s}$ la înălțimea $h = 10,2 \text{ km}$. Care este forma frontului undei de șoc produsă de avion? La ce distanță de o casă se va afla avionul când geamurile acesteia încep să vibreze? Viteza sunetului este $c = 340 \text{ m/s}$.

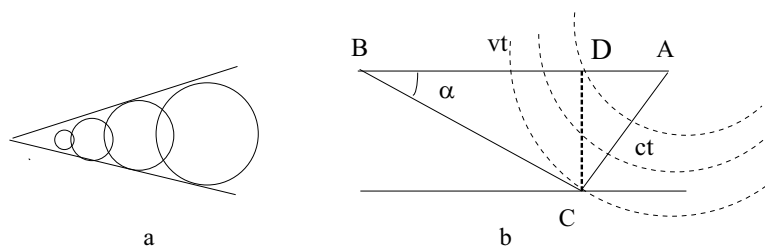


Figura 1.7: Unda de șoc produsă de un avion

SOLUȚIE

Dacă un corp (glonț, avion supersonic) se deplasează într-un fluid cu o viteză mai mare decât a undelor sonore apare așa numita undă de șoc. Undele produse de avion se propagă în toate direcțiile sub formă de unde sferice. Deoarece viteza v a avionului este mai mare decât a sunetului, frontul de undă are forma unui con în vârful căruia se află avionul în fiecare moment (Fig. 1.7).

Dacă la un moment dat avionul se afla în punctul A după trecerea timpului t , el s-a deplasat în punctul B iar $AB = vt$. Frontul unei emise în A va avea raza $AC = ct$. În punctul C se presupune că se află casa unde este simțită unda de șoc. Se observă în Fig.1.7 că:

$$\sin \alpha = \frac{ct}{vt} = \frac{c}{v}$$

Distanța BC față de o casă aflată în punctul C de pe sol este:

$$d = \frac{h}{\sin \alpha} = \frac{hv}{c} = 30 \text{ km}$$

PROBLEMA 1.18 O sursă punctiformă emite unde sonore cu frecvența ν . Să se găsească frecvențele sunetului pe care-l recepționează un observator care se apropie de sursă cu viteza v . Să se găsească frecvența sunetului pe care același observator îl recepționează dacă se depărtează de sursă cu viteza v . Viteza sunetului în aer este c .

SOLUȚIE

Sursa fiind punctiformă undele emise de aceasta sunt sferice. Suprafețele de undă sunt sfere concentrice distanțate una de alta cu lungimea de undă. Dacă observatorul ar fi în repaus el ar recepționa ct/λ unde în timpul t . Dacă observatorul se apropie de sursă el va recepționa $(c + v)t/\lambda$ unde în timpul t . Frecvența cu care observatorul recepționează undele este

$$\nu' = \frac{(c + v)t}{\lambda t} = \frac{c + v}{\lambda} = \frac{(c + v)}{cT} = \nu \left(1 + \frac{v}{c}\right)$$

Dacă observatorul se depărtează de sursă cu viteza v el va recepționa $(c - v)t/\lambda$ unde în timpul t . Frecvența recepționată de observator va fi:

$$\nu' = \frac{(c - v)t}{\lambda t} = \frac{c - v}{\lambda} = \frac{(c - v)}{cT} = \nu \left(1 - \frac{v}{c}\right)$$

Putem astfel să exprimăm frecvența recepționată de observatorul care se apropie sau se depărtează de sursă astfel:

$$\nu' = \nu \left(1 \pm \frac{v}{c}\right)$$

unde semnul $+$ corespunde cazului când observatorul se apropie de sursă iar semnul $-$ corespunde cazului când observatorul se depărtează de sursă. Acesta este efectul Doppler.

PROBLEMA 1.19 O sursă punctiformă emite unde sonore cu frecvența ν . Să se găsească frecvențele sunetului pe care-l recepționează un observator în cazul în care sursa se apropie de observator cu viteza v . Să se găsească frecvența sunetului pe care același observator îl recepționează dacă sursa se depărtează de observator cu viteza v . Viteza sunetului în aer este c .

SOLUȚIE

Deoarece viteza de propagare a sunetului depinde numai de proprietățile mediului, în timpul unei oscilații unda se va propaga înainte cu distanța λ . Dar în timpul unei perioade și sursa se deplasează în sensul

de deplasare al undei cu vT , unde T este perioada. Atunci lungimea de undă va fi:

$$\lambda' = \lambda - vT = cT - vT = (c - v)T$$

Frecvența percepută de observator va fi:

$$\nu' = \frac{c}{\lambda'} = \frac{c}{c - v} \nu$$

Dacă sursa se depărtează de observator cu viteza v lungimea de undă va fi:

$$\lambda' = \lambda + vT = cT + vT = (c + v)T$$

Frecvența percepută de observator va fi:

$$\nu' = \frac{c}{\lambda'} = \frac{c}{c + v} \nu$$

Astfel în cazul în care sursa se apropie sau se depărtează de observator frecvența percepută de acesta este:

$$\nu' = \frac{c}{\lambda'} = \frac{c}{c \pm v} \nu$$

unde semnul $+$ corespunde cazului în care sursa se apropie de observator iar semnul $-$ corespunde cazului în care sursa se depărtează de observator.

PROBLEMA 1.20 Să se rezolve ecuația undelor

$$\frac{\partial^2 u}{\partial x^2} = \frac{1}{v^2} \frac{\partial^2 u}{\partial t^2}$$

pentru o coardă de lungime $l = 1$ care inițial este în repaus și prezintă proprietățile:

$$u(x, 0) = \begin{cases} x/5 & \text{dacă } 0 \leq x \leq 1/2 \\ (1-x)/5 & \text{dacă } 1/2 \leq x \leq 1 \end{cases}$$

SOLUȚIE

Soluția generală a ecuației undelor este o suprapunere de forma:

$$u(x, t) = \sum_{n=1}^{\infty} (A_n \cos n\pi vt + B_n \sin n\pi vt) \sin n\pi x \quad (1.80)$$

deoarece $l = 1$. Având în vedere că

$$\left[\frac{\partial u}{\partial t} \right]_{t=0} = \sum_{n=1}^{\infty} n\pi v (A_n \sin n\pi vt - B_n \cos n\pi vt)_{t=0} \sin n\pi x = 0$$

coeficienții B_n sunt nuli.

Atunci relația 1.80 devine:

$$u(x, t) = \sum_{n=1}^{\infty} A_n \cos n\pi vt \sin n\pi x \quad (1.81)$$

La momentul $t = 0$ din 1.81 se obține:

$$u(x, 0) = \sum_{n=1}^{\infty} A_n \sin n\pi x$$

Coeficienții A_n se calculează cu formulele:

$$A_n = 2 \int_0^1 u(x, 0) \sin n\pi x dx \quad (1.82)$$

Ținând seama de proprietățile funcției $u(x, 0)$ 1.82 devine:

$$A_n = \frac{2}{5} \int_0^{1/2} x \sin n\pi x dx + \frac{2}{5} \int_{1/2}^1 (1-x) \sin n\pi x dx$$

Se efectuează substituția:

$$n\pi x = \xi \quad x = \frac{\xi}{n\pi} \quad dx = \frac{d\xi}{n\pi}$$

Atunci:

$$A_n = \frac{2}{5} \int_0^{n\pi/2} \frac{\xi}{n\pi} \sin \xi \frac{d\xi}{n\pi} + \frac{2}{5} \int_{n\pi/2}^{n\pi} \left(1 - \frac{\xi}{n\pi} \right) \sin \xi \frac{d\xi}{n\pi}$$

$$A_n = \frac{2}{5(n\pi)^2} \left[\int_0^{n\pi/2} \xi \sin \xi d\xi + n\pi \int_{n\pi/2}^{n\pi} \sin \xi d\xi - \int_{n\pi/2}^{n\pi} \xi \sin \xi d\xi \right]$$

Dar

$$\int \xi \sin \xi d\xi = \sin \xi - \xi \cos \xi$$

și

$$\int \sin \xi d\xi = -\cos \xi$$

Atunci:

$$A_n = \frac{2}{5(n\pi)^2} \left[(\sin \xi - \xi \cos \xi) \Big|_0^{n\pi/2} - n\pi \cos \xi \Big|_{n\pi/2}^{n\pi} - (\sin \xi - \xi \cos \xi) \Big|_{n\pi/2}^{n\pi} \right]$$

și

$$A_n = \frac{4}{5(n\pi)^2} \sin \frac{n\pi}{2} \quad (1.83)$$

Soluția ecuației este:

$$u(x, t) = \sum_{n=1}^{\infty} \frac{4}{5(n\pi)^2} \sin \frac{n\pi}{2} \sin n\pi x \cos n\pi v t$$

PROBLEMA 1.21 Să se găsească unda rezultantă obținută prin suprapunerea a două unde care au aceeași amplitudine dar a căror lungime de undă și pulsație diferă puțin.

$$u_1(x, t) = A \sin \frac{2\pi}{\lambda_1} (x - v_1 t)$$

$$u_2(x, t) = A \sin \frac{2\pi}{\lambda_2} (x - v_2 t)$$

SOLUȚIE

Deoarece

$$k = \frac{2\pi}{\lambda} \quad \text{și} \quad \omega = 2\pi\nu = \frac{2\pi v}{\lambda}$$

$$u = u_1 + u_2 = 2A \sin \frac{k_1 x - \omega_1 t + k_2 x - \omega_2 t}{2} \cos \frac{k_1 x - \omega_1 t - k_2 x + \omega_2 t}{2}$$

$$u = 2A \sin \left[\frac{k_1 + k_2}{2}x - \frac{\omega_1 + \omega_2}{2}t \right] \cos \left[\frac{k_1 - k_2}{2}x - \frac{\omega_1 - \omega_2}{2}t \right]$$

În relația de mai sus vom introduce notațiile:

$$\begin{aligned} k_1 &= k + dk & k_2 &= k - dk \\ \omega_1 &= \omega + d\omega & \omega_2 &= \omega - d\omega \end{aligned}$$

Atunci:

$$u = 2A \cos(xdk - td\omega) \sin(kx - \omega t)$$

Termenul

$$2A \cos(xdk - td\omega)$$

reprezintă amplitudinea unei progresive iar factorul de fază este:

$$\sin(kx - \omega t) = \sin \frac{2\pi}{\lambda} \left(x - \frac{\omega}{k}t \right)$$

PROBLEMA 1.22 Să se găsească legătura dintre viteza de fază și viteza de grup.

SOLUȚIE

$$v_g = \frac{d\omega}{dk} = \frac{d(v_f k)}{dk} = v_f + k \frac{dv_f}{dk}$$

Dar

$$k \frac{dv_f}{dk} = \frac{2\pi}{\lambda} \left(\frac{dv_f}{d\lambda} \frac{d\lambda}{dk} \right) = \frac{2\pi}{\lambda} \left(-\frac{2\pi}{k^2} \right) \frac{dv_f}{d\lambda}$$

$$k \frac{dv_f}{dk} = -\frac{4\pi^2}{\lambda} \frac{\lambda^2}{4\pi^2} \frac{dv_f}{d\lambda} = -\lambda \frac{dv_f}{d\lambda}$$

Atunci:

$$v_g = v_f - \lambda \frac{dv_f}{d\lambda}$$

Mărimea $dv_f/d\lambda$ măsoară dispersia cauzată de mediu. Dacă nu există dispersie, energia va fi transportată cu viteza de fază iar $v_f = v_g$.

PROBLEMA 1.23 Să se reducă ecuația undelor neomogene

$$\frac{\partial^2 u}{\partial x^2} = \frac{1}{v^2} \frac{\partial^2 u}{\partial t^2} + v(x)$$

la trei ecuații diferențiale.

SOLUȚIE

Dacă se încearcă substituția

$$u = X(x) T(t)$$

se obține:

$$T \frac{d^2 X}{dx^2} = \frac{X}{v^2} \frac{d^2 T}{dt^2} + v$$

Se observă că variabilele nu pot fi separate.

Se alege următoarea substituție:

$$u = X(x) T(t) + \gamma(x)$$

Atunci:

$$\begin{aligned} \frac{\partial u}{\partial x} &= T \frac{dX}{dx} + \frac{d\gamma}{dx} \\ \frac{\partial^2 u}{\partial x^2} &= T \frac{d^2 X}{dx^2} + \frac{d^2 \gamma}{dx^2} \end{aligned}$$

și

$$\frac{\partial^2 u}{\partial t^2} = X \frac{d^2 T}{dt^2}$$

Atunci

$$T \frac{d^2 X}{dx^2} + \frac{d^2 \gamma}{dx^2} = \frac{X}{v^2} \frac{d^2 T}{dt^2} + v(x) \quad (1.84)$$

Se alege funcția γ astfel:

$$\frac{d^2 \gamma}{dx^2} = v(x) \quad (1.85)$$

Atunci 1.84 devine:

$$T \frac{d^2 X}{dx^2} = \frac{X}{v^2} \frac{d^2 T}{dt^2}$$

Această ecuație se mai poate scrie:

$$\frac{v^2}{X} \frac{d^2 X}{dx^2} = \frac{1}{T} \frac{d^2 T}{dt^2}$$

Admițând soluții periodice se poate face o separare de variabile astfel încât:

$$\begin{aligned} \frac{d^2 X}{dx^2} + \left(\frac{\omega}{v}\right)^2 X &= 0 \\ \frac{d^2 T}{dt^2} + \omega^2 T &= 0 \end{aligned}$$

Se obțin astfel două ecuații diferențiale la care se mai poate adăuga și ecuația 1.85.

Bibliografie

- [1] V. V. Batygin, I. N. Toptygin – *Problems in Electrodynamics* , Academic Press, London and New York, 1964
- [2] Cornelia Motoc – *Fizică* , Editura All. București 1994
- [3] Ion M. Popescu – *Fizică* , Editura didactică și Pedagogică, București, 1982
- [4] Ion M. Popescu, Gabriela Cone, Gheorghe Stanciu – *Probleme rezolvate de fizică* , Editura didactică și Pedagogică, București, 1993
- [5] H. Goldstein – *Classical Mechanics* , Addison - Wesley Publishing Co. Mass. 1980
- [6] G. L .Kotkin, V. G. Serbo – *Collection of Problems in Classical Mechanics* , Pergamon Press, 1971
- [7] L. D. Landau, E. M. Lifshitz – *Fizică statistică* , Editura Tehnică, București 1998
- [8] Ryogo Kubo – *Thermodynamics* , North Holland Publishing Company, Amsterdam, 1968
- [9] Ryogo Kubo – *Statistical Mechanics* , North Holland Publishing Company, Amsterdam, 1965